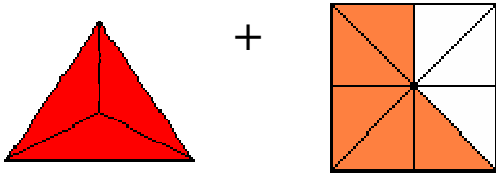
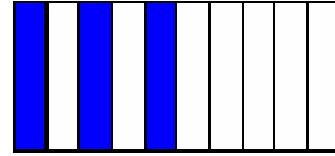


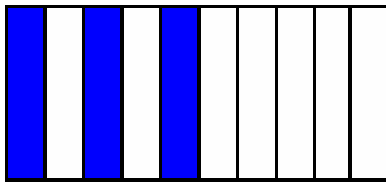
Calcula el 20 % de 500



Calcula el 75 % de 200



Calcula el 80 % de 50



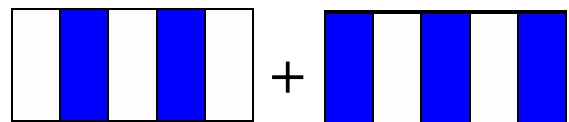
Calcula el 9 % de 9



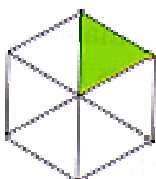
¿Qué porcentaje se calcula al multiplicar por 0,2?



¿Qué porcentaje se calcula al multiplicar por 0,07?



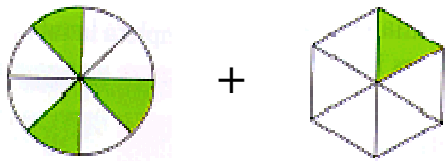
¿Qué porcentaje se calcula al multiplicar por 2/3?



¿Qué porcentaje se calcula al multiplicar por 1/4?



¿Qué porcentaje se calcula al multiplicar por $7/5$?



¿Qué porcentaje se calcula al multiplicar por $9/4$?


a)




b)




¿A qué fracción corresponde un 40 %?



¿A qué fracción corresponde un 24 %?




¿A qué fracción corresponde un 120 %?

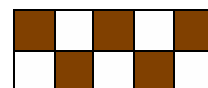


¿A qué fracción corresponde un 75 %?

a



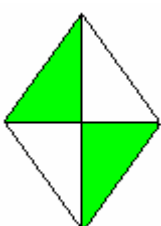
b



c



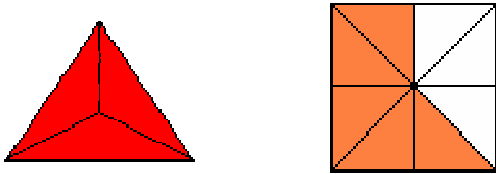
¿A qué fracción corresponde un 25 %?



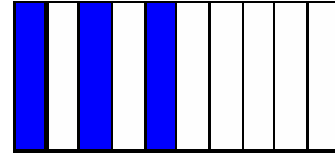
¿A qué fracción corresponde un 50 %?



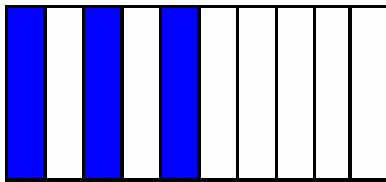
¿De qué número es 8 su 25 %?



¿De qué número es 12 su 50 %?



¿De qué número es 15 su 150 %?




¿De qué número es 21 su 75 %?



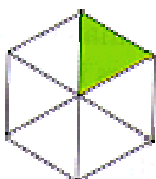
¿De qué número es 21 su 30 %?



¿De qué número es 48 su 50 %?



¿De qué número es 78 su 200 %?



¿De qué número es 20 su 20 %?



Solución: 100

Solución: 150

Solución: 40

Solución: 8,1

Solución: 20 %

Solución: 7 %

Solución: 66,67 %

Solución: 25 %

Solución: 140 %

Solución: 225 %

Solución: $\frac{2}{5}$


Solución: $\frac{6}{25}$

Solución: $\frac{6}{5}$


Solución: $\frac{3}{4}$

Solución: $\frac{1}{4}$


Solución: $\frac{1}{2}$




Solución: 32




Solución: 24




Solución: 10




Solución: 28



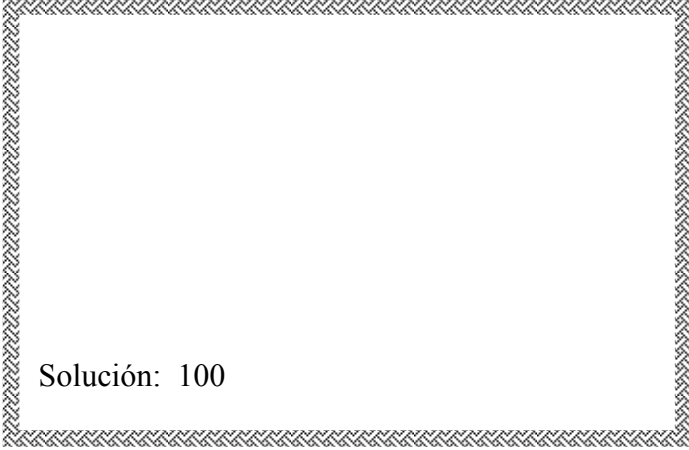
Solución: 70



Solución: 96



Solución: 39



Solución: 100